



Úlohy zadané žiakom počas samoštúdia 11.1. – 15.1.2021

Prírodoveda

5.C

1. Pod obrázok dopíš správny názov. Obrázky správne spoj podľa toho, či patria do živej / neživej prírody. Obrázky vymaľuj.



.....




.....

.....

.....

ŽIVÁ PRÍRODA

NEŽIVÁ PRÍRODA



.....

.....

.....

.....

2. Doplň do viet chýbajúce slová

PRÍRODA PRÍRODNINY ČLOVEK RASTLINY ŽIVOČÍCHY VODA VZDUCH NERASTY

Všetko okolo nás, čo nevytvorili ľudia, sa volá

Veci a predmety, ktoré sú v prírode, voláme

Do živej prírody patrí, a

Do neživej prírody patrí, a

3. Je to pravda? Napíš ÁNO / NIE

A, Kameň rastie a pije vodu.

B, Človek, ktorý nežije v lese, nepatrí do živej prírody.

