

## Jar a jej premeny - Veľká noc

1. Vyznač, aké máme ročné obdobie

Jar	Leto	Jeseň	Zima
-----	------	-------	------

2. Jarné mesiace sú:

\_\_\_\_\_

3. Zakrúžkuj správnu odpoveď.

Na jar sú dni

teplejšie / chladnejšie

kratšie / dlhšie




4. Napíš, aké počasie býva na jar:

\_\_\_\_\_

5. Napíš, čo robíme na jar v záhrade a na poli. (4 príklady)


\_\_\_\_\_

6. Napíš názvy jarných kvetov

7. Ako sa volá sviatok, ktorý slávime na jar.

8. Vyznač symboly Veľkej noci



9. Obrázok vymaľuj

