

Matematikáčik

1. Doplň čísla a znamienka <, >, =

$11 \square 13$

$9 \square 6$

$13 \square 13$

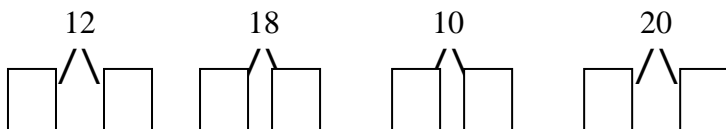
$\square < \square$

$\square > \square$

2. Usporiadaj čísla od najväčšieho po najmenšie:

20 14 18 5	
0 16 9 11	
13 2 12 20	

3. Rozlož čísla:



4. Doplň číselný rad:

13		15		17
13			10	9
	19			16

5. Vypočítaj:

$10 + 5 + 4 =$

$20 - 7 - 10 =$

$3 + 7 + 8 =$

$18 - 8 - 10 =$

6. Rieš slovnú úlohu:

Eva má 20 kvetov. 3 kvety jej zvädli. Koľko kvetov jej zostalo?

spolu _____

zvädli _____

zostalo _____

Zostalo jej kvetov.

7. Rieš slovnú úlohu:

Janka má 12 guľičiek. Zuzka ich má 8. koľko guľičiek majú spolu?


Janka _____


Zuzka _____

spolu _____

Spolu majú guľičiek.

8. Vypočítaj:

+		10	13	4	15	11	3	12
5								

-		8	10	13	6	17	0	14
18								