

Opakovanie učiva

Meno:.....



1. Janka mala 10 bábik. Vierka mala 5 bábik.
Koľko bábik majú spolu?

Janka _____

Vierka _____

spolu _____

Spolu majú _____ bábik.

2. Emil v lese videl 13  . Kýchol si a 2 zajace utiekli.
Koľko zajacov ostalo?

videl _____

utiekli _____

ostalo _____

V lese ostalo _____ zajacov.

3. Vypočítaj.

$11 + 3 =$

$10 - 4 =$

$18 + 2 =$

$16 - 5 =$

$12 + 7 =$

$18 - 4 =$

$13 + 4 =$

$19 - 9 =$

$10 + 5 =$

$20 - 9 =$

4. Porovnaj

$20 \square 10$

$17 \square 18$

$12 \square 13$

$2 \square 12$

$12 \square 2$

$5 \square 5$

5. Zisti, aké čísla sa skrývajú v hviezdičke.

$4 + \star = 10$

$19 - \star = 10$

$3 + \star = 7$

$19 - \star = 17$


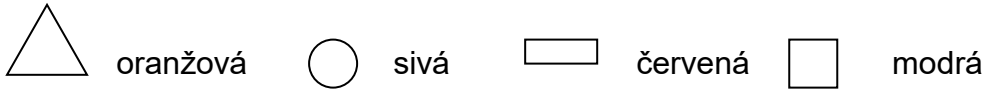
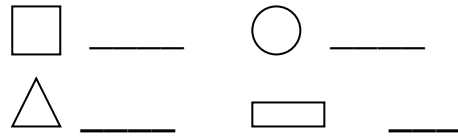
$10 - \star = 3$

$11 + \star = 18$

$14 - \star = 10$

$20 - \star = 9$

6. Spočítaj, zapíš a vyfarbi.



BONUSOVÁ ÚLOHA

Skús aj ty nakresliť obrázok z geometrických tvarov.